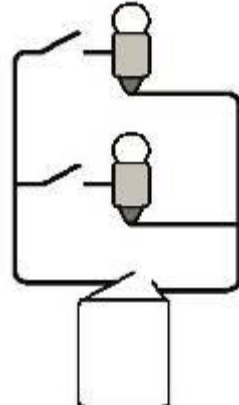
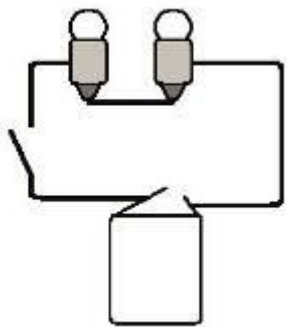
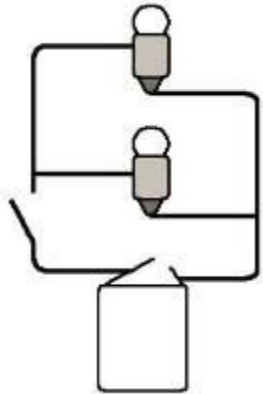


Prénom : ..... Date : .....

## Manuel p. 190 : Je fais le bilan

		
1	2	3

**1. Tous ces montages permettent de faire briller deux lampes. Mais ils sont tous différents. Trouve, parmi les propositions 1, 2 ou 3, un montage :**

- pour lequel les lampes brillent normalement : .....
- avec lequel une seule des deux lampes peut être allumée ou éteinte : .....
- avec lequel les deux lampes sont forcément allumées ou éteintes en même temps : .....
- pour lequel les deux lampes brillent faiblement : .....

Attention, il peut y avoir plusieurs réponses.

**2. Remplis le tableau en donnant le nom du dispositif de sécurité qui est décrit.**

Description de l'objet	Nom du dispositif de sécurité
Je suis une prise électrique particulière. Une de mes fiches entraîne le courant vers la terre quand il y a une fuite.	.....
Je suis placé sur chaque circuit électrique. J'interviens dès qu'il y a trop de courant demandé en coupant le circuit.	.....
S'il se produit un très gros problème, je coupe l'alimentation de toute la maison.	.....